

தரம் 5 புலமைப்பரிசில் பரீட்சைக்கான இலகுவழி மாதிர்ப் பரீட்சை - 30

ஆசிரியர் : P.அம்பிகைபாகன்
இடம் : ACA, ஆசிரியர்ன் வீட்டில்
குழு வகுப்புகள்

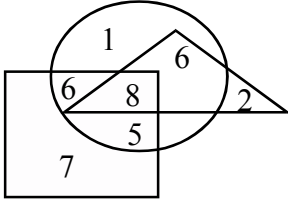
A, B, C, D, E. எனும் ஐந்து பொருட்களின் பல்வேறு நிறைகளின் விலைகள் தரப்பட்டுள்ளன.

| பொருள் | அளவு | விலை |
|--------|------|------------|
| A | 100g | ரூபா 20.00 |
| B | 200g | ரூபா 32.00 |
| C | 250g | ரூபா 40.00 |
| D | 400g | ரூபா 36.00 |
| E | 500g | ரூபா 50.00 |

1. சகல பொருட்களினதும் ஒரு கிலோவுக்கான விலைகளைக் காண்பதன் மூலம் அட்டவணையைப் பூர்த்தி செய்க.

| பொருளின் அளவு | விலை | |
|---------------|-------|------|
| | ரூபா. | சதம் |
| 1Kg பொருள் A | | |
| 1Kg பொருள் B | | |
| 1Kg பொருள் C | | |
| 1Kg பொருள் D | | |
| 1Kg பொருள் E | | |

வட்டம் மீன் உண்பவர்களைக் குறிக்கும். சதுரம் இறைச்சி உண்பவர்களைக் குறிக்கும் முக்கோணம் மரக்கறி உண்பவர்களைக் குறிக்கும்.



2. மூன்றுவகை உணவுகளையும் உண்பவர்கள் எத்தனை பேர்?

1. 6 2. 8 3. 13

3. இவர்களில் இறைச்சியை மட்டும் உண்பவர்கள் எத்தனை பேர்?

1. 6 2. 8 3. 7

4. வினாக்குறி இடப்பட்ட வெற்றுக்கூட்டுக்குப் பொருத்தமான உருவைத் தெரிவு செய்க?

$$\begin{array}{ccc} \bigcirc & \bigcirc & \bigcirc = 9 \\ \bigcirc & \square & ? = 6 \\ \bigcirc & \bigcirc & \square = 8 \end{array}$$

1.

2.

3.

5. இவ்விரு காகித அட்டைகளில் பெரிய பாதி வட்டத்தை கூம்பாக்கி சிறிய வட்டத்துடன் இணைத்து ஒட்டுவதன் மூலம் பெறக்கூடிய திண்ம உரு யாது?

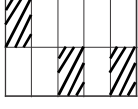
.....

6. இவ்வுருவின் சுற்றளவு யாது?

.....

7. இம்முழு உருவின் நிழற்றப்பட்ட பகுதியை பின்னத்தில் தருக.

.....



8. இம்முழு உருவின் நிழற்றாத பகுதியைத் தசம எண்ணில் தருக.

(.....)

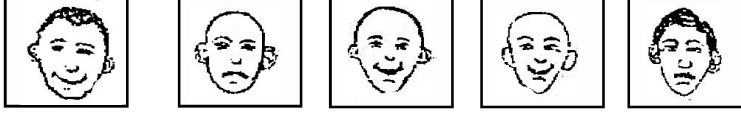
9. இவர்களில் வித்தியாசமானவர் யார்?



1. 2. 3. 4. 5.

(.....)

10. இவர்களில் ஏதோவொரு வகையில் சோடி சேர்க்கக் கூடியவர்கள் யாவர்?



1. 2. 3. 4. 5.

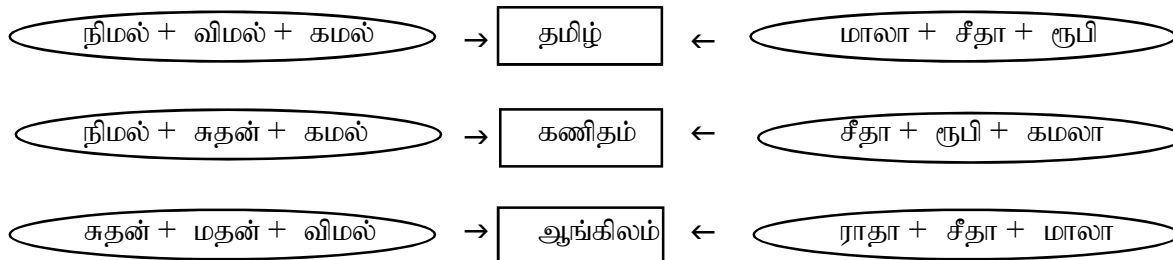
(.....)

1. 1உம், 2உம் 2. 1உம், 5உம் 3. 3உம், 5உம்

சரியான விடையின் கீழ்க் கோடுக.

11. ஆண்பிள்ளைகள் பெண்பிள்ளைகளை விட அதிக உடற்பலம் உள்ளவர்கள் என்பது.
 1. எப்பொழுதும் உண்மை 2. சிலவேளை உண்மை 3. எப்பொழுதும் பொய்
12. மீன்கள் நீரில் வாழும் என்பது
 1. எப்பொழுதும் உண்மை 2. சிலவேளை உண்மை 3. எப்பொழுதும் பொய்
13. ஒரு முக்கோணிக்கு நான்கு பக்கங்கள் உண்டு என்பது.
 1. எப்பொழுதும் உண்மை 2. சிலவேளை உண்மை 3. எப்பொழுதும் பொய்
14. மேசைகள், கதிரைகள், அலுமாரிகள் ஆகியன மரத்தினால் மாத்திரம் செய்யப்படும் என்பது
 1. எப்பொழுதும் உண்மை 2. சிலவேளை உண்மை 3. எப்பொழுதும் பொய்
15. அண்ணாவை விடத் தம்பி நிறை குறைந்தவன் என்பது
 1. எப்பொழுதும் உண்மை 2. சிலவேளை உண்மை 3. எப்பொழுதும் பொய்
16. A என்னும் நாட்டில் மாலை 3.00 மணியாக இருக்கும் போது B எனும் நாட்டில் அதே நாள் காலை 8.00 மணியாக இருக்கும். B எனும் நாட்டில் மாலை 3.00 மணியாக இருக்கும் போது A என்னும் நாட்டில் என்ன நேரமாக இருக்கும்?
 1. மாலை 1.00 மணி 2. காலை 8.00 மணி 3. இரவு 10.00 மணி
17. EAT என்பதை 5, 1, 20 எனவும், ATE என்பதை 1, 20, 5 எனவும் குறித்தால் TEA என்பதை எவ்வாறு குறிக்கலாம்?
 1. 20, 5, 1 2. 20, 1, 5 3. 1, 5, 20
18. ஒரு பால் போத்தலின் விலை ரூ. 10 ஆகும். போத்தலின் விலையை விட பாலின் விலை ரூ. 6 அதிகமாகும். ஆகவே பாலின் விலை யாது?
 1. ரூபா 6.00 2. ரூபா 8.00 3. ரூபா 9.00

ஒரு வகுப்பில் கல்வி கற்கும் மாணவர்களும் அவர்கள் விரும்பிக் கற்கும் பாடங்களும் அம்புக் கோட்டினால் காட்டப்பட்டுள்ளன.

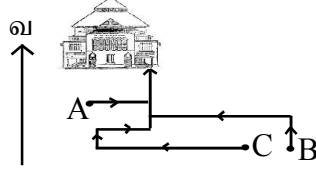


19. மூன்று பாடங்களையும் விரும்பிக் கற்பவர் யார்?

1. நிமல் 2. சீதா 3. ரூபி

20. ஒரு பாடத்தை மட்டும் விரும்பிக் கற்பவர்கள் யாவர்?

- 1.கமலா, விமல் 2. சுதன், ராதா 3.மதன், கமலா



A, B, C எனும் மூவர் பாடசாலையை சென்றடைந்த வழிப்பாதைகள் மேலே தரப்பட்டுள்ளன.

21. மேற்கு நோக்கிச் சென்று இரு தடவைகள் வலதுகைப் பக்கம் திரும்பிச் சென்று பாடசாலையை அடைந்தவர் யார்?

1. A 2. B 3. C

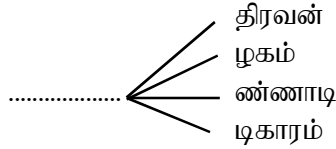
22. ஒரு தடவை இடது பக்கம் மாத்திரம் திரும்பிச் சென்றடைந்தவர் யார்?

1. A 2. B 3. C

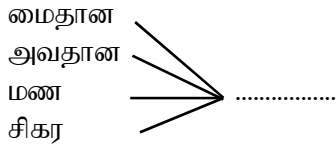
23. C என்பவர் வீட்டிலிருந்து புறப்பட்டு 20 நிமிடங்கள் நடந்து சென்று பாடசாலையை அடைந்தார். ஆயினும் அவர் பாடசாலையை அடைந்தது 10 நிமிடங்கள் பிந்தியே ஆகும். அவரது பாடசாலை ஆரம்பிப்பது மு.ப 7.45க்கு. ஆகவே அவர் வீட்டிலிருந்து புறப்பட்ட நேரம் யாது?

1. மு.ப 7.35 2. மு.ப 7.25 3. மு.ப 7.15

பள்ளிக் கோடுகளில் ஒரு எழுத்தை எழுதுவதன் மூலம் கருத்துடைய நான்கு சொற்களை ஆக்க முடியும். வினாக்களின் கீழுள்ள எழுத்துக்களில் பொருத்தமான எழுத்தைத் தெரிவு செய்க.



24. 1. ப 2. க 3. எ

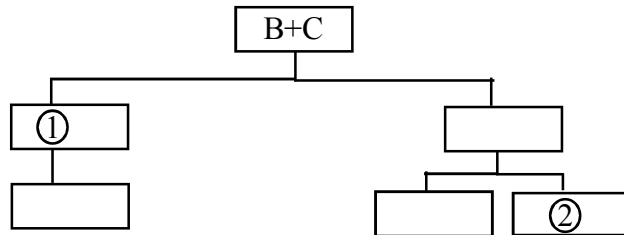


25. 1. ம் 2. ல் 3. ர்

A யின் தாய் B தந்தை C
A க்கு ஒரு மகன் G

D என்பவர் Aயின் சகோதரர்
E உம் Fஉம் D யின் பிள்ளைகள்.

26. இக் கூற்றுக்களின் படி பின்வரும் வரிப்படத்தில் 1ஆம் 2ஆம் இடங்களில் உள்ள கூடுகளுக்குப் பொருத்தமான எழுத்துக்கள் எவை?



1. G,F 2. A,F 3. D,F

துவிச்சக்கர வண்டியொன்றின் சில பாகங்கள் பற்றி வினாவில் வினாவப்படும் விடயங்களுக்குப் பொருத்தமான பதிலை குறிக்கும் விடையின் கீழ்க் கீற்றுக.

27. துவிச்சக்கர வண்டி செல்லும் திசையை மாற்ற அவசியமானது எது?
1. கைப்பிடி 2. மிதி 3. சக்கரம்
28. சேறு சகதி உடையில் படியாது தடுக்க உதவுவது எது?
1. மிதி 2. சேற்றுத்தடுப்பான் 3. முன்விளக்கு
29. நாம் செலுத்தும் மனித வலுவை சில்லுகளுக்கு வழங்கி உதவி செய்வது எது?
1. ஆசனம் 2. கைப்பிடி 3. பற்சக்கரம்

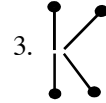
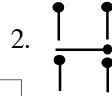
விடுகதைகளுக்கு விடை விடுக்கவும்.

30. நோய் இல்லை நொடி இல்லை நாளும் மெலிகின்றான். இல்லாமல் போகின்றான். மீண்டும் தோன்றி வளருகின்றான் இவன் யார்?
1. சூரியன் 2. சந்திரன் 3. நட்சத்திரம்
31. காணப் பூ பூக்கும் காணாமல் காய்காய்க்கும் கிண்டி எடுத்து வறுத்தால் நாவுக்குச் சுவையாவான் அவன் யார்?
1. நிலக்கடலை 2. கோழி இறைச்சி 3. உருளைக்கிழங்கு
32. தங்கை விளக்குக் காட்ட, அண்ணன் வெடி வெடிக்க, தம்பி தண்ணீர் தெளிக்கின்றான். அது என்ன?
1. மலை 2. மழை 3. சிலை

வீட்டுவாசல் காப்பவன்
வேட்டையாட வல்லவன்,
ஆட்டுக்கிடைப் பாண்டியன்,
அன்பு மிக்க தோழன்,
உண்ட சோற்றை எண்ணியே,
உயிரும் விடத் துணிபவன்,
மண்டலத்தில் நாய்போல்,
வாய்த்த துணை உண்டோ?

- கவிமணி தேசிய விநாயகப்பிள்ளை.

31. இப்பாடலில் விபரிக்கப்படும் பிராணியின் பெயர் எழுதுக.
32. அப்பிராணியிடம் காணப்படும் விசேட உணர்வு என்ன?
33. தீக்குச்சிகளினால் ஆக்கப்பட்ட இவ் ஆங்கில எழுத்துக்களில் அதிக தீக்குச்சிகள் பயன்படுத்தப்பட்ட எழுத்து எது?



M H K

36. பெட்டிக்குள் உள்ள M, H, K, எனும் மூன்று எழுத்துக்களில் அனைத்து மூலைகளும் செங்கோணங்களைக் கொண்ட எழுத்து யாது?
1. M 2. H 3. K

வாக்கியங்களில் கீறிட்ட இடங்களுக்குப் பொருத்தமான நிறுத்தற் குறியீடுகளை இடுக.

37. புறா சிபி சக்கரவர்த்தியின் மடியில் பதறி விழுந்தது என்னைக் காப்பாற்றுங்கள் எனக்கு அபயம் அளியுங்கள் என அவலக் குரல் எழுப்பியது
38. அதற்கு பருந்து நேர்மைமிக்க மன்னனே என் உணவைப் பறித்துக் கொண்டு என்னை பசியால் வாட வைப்பது முறையா என்று கேட்டது.....

வினாக்களில் உரிய முறையில் சொற்கள் பிரித்து எழுதப்படாத வாக்கியங்கள் தரப்பட்டுள்ளன.

அவ்வாக்கியங்களிலுள்ள சொற்களை உரிய முறையில் பிரித்து கருத்துள்ள வாக்கியங்களாக எழுதுக.

39. எமது நாட்டில் உருளைக்கிழங்கின்விலை உயர்வாக உள்ளது

40. மனிதனின் தந்தையின் பூர்த்தியை உடையுள்ள விற்றுக ஏற்பட உற்பத்தி அவசியமான தாகும்