

**தரம் 5 புலமைப்பரிசில் பரீட்சைக்கான
இலகுவழி மாத்திரப் பரீட்சை - 48**

**ஆசிரியர் : P.அம்பிகைபாகன்
வீனாத்தாள் - 2**

1 மணி 15 நிமிடங்கள்

(அரசு பரீட்சையைத் தழுவின மாதிரிப் பரீட்சை)

பின்வரும் கதையாடலை வாசிக்க.

சற்று நேரத்தில் பிட்டுக்காரி வந்தாள். பிட்டையும் வடையையும் பெரிய பையன் தட்டில் வாங்கினான். அவற்றை ஆவலுடன் தின்னத் தொடங்கினான். அப்பொழுது என்ன நேர்ந்தது? கவிஞர் கூறுகிறார்.

“வடையின் சுவையோ ‘விடேன் விடேன்’ என்றது
கொல்லை நோக்கிச் செல்லவும் துடித்தான்.
மெல்லும் வடையை விழுங்கவும் துடித்தான்.
வில்லம்பு போல மிக விரைவாக
நடுவிற் கிடந்த நாயை மிதித்துப்
படபடவென்று பாணையைத் தள்ளிக்
கன்றின் கயிற்றால் கால் தடுக்குற்று
நின்ற பசுவின் நெற்றியில் மோதி
இரண்டு பற்கள் எங்கேயோ போட்டுப்
புரண்டெழுந்தோடிப் போனான் கொல்லைக்கு”

எப்படியிருக்கிறது இக்காட்சி! பிட்டையும் தின்னவில்லை, பல்லும் போயிற்று.

01. இக்கதைப் பாடலை நன்றாக வாசித்த பின் இக்கதையை உமக்குப் புரிந்த வரையில் நான்கு வாக்கியங்களாக எழுதுக.

- 1) _____
- 2) _____
- 3) _____
- 4) _____

02. பாடலில் உள்ள சொற்களின் பொருத்தமான கருத்தைத் தெரிவு செய்க.

- 1) கொல்லைப்பக்கம் 1. கழிவறை 2. சமயலறை 3. படிப்பறை
- 2) புரண்டெழுந்து 1. நித்திரைவிட்டெழுந்து 2. விழுந்தெழுந்து 3. பாய்ந்து விழுந்து

03. பாடலில் உள்ள உவமானத்தை எழுதுக. _____

04. பின்வரும் தொடர்கள் ஒவ்வொன்றும் வெளிப்படுத்தும் கருத்தை எழுதுக.

- 1) எலி வளையானாலும் தனி வளை வேண்டும்.

- 2) நாமொன்று நினைக்கத் தெய்வம் ஒன்று நினைத்தது.

■ அடைப்பினுள்ளே இருக்கும் சொற்களை மாத்திரம் பயன்படுத்திச் சரியான கருத்துள்ள மூன்று வாக்கியங்களை எழுதுக. (ஒரு சொல்லை ஒரு தடவை மாத்திரம் பயன்படுத்துக.)


பழமும் / இல்லை / என்பவர் / அதன் / வேடிக்கை / கயிற்றை / கழுத்தில் / லூயிபாஸ்ட்டர் / எனக்கு / ஆவார் / புகழ்பெற்ற / பார்த்தனர் / கிளியை / கட்டிக் / பறக்கவிட்டு / விஞ்ஞானி/ பாலும் / தேவை

05. _____
06. _____
07. _____

08. வெற்றிடங்களுக்குப் பொருத்தமான சொற்களை எழுதுக.



01) THIS IS A _____



02) WHAT IS THIS? _____

09. பின்வரும் வாக்கியத்தின் கருத்தை ஆங்கிலத்தில் எழுதுக.
நீர் பிறந்த இடம் எது? _____


10. பின்வரும் சிங்கள வாக்கியத்தின் கருத்தைத் தமிழில் எழுதுக.
ஓயாகே கம மாத்தறதா? _____

11. 'விரைந்து வாருங்கள்' என்னும் வாக்கியம் சிங்களத்தில் கூறப்படும் விதத்தைத் தமிழில் எழுதுக.

12 தொடக்கம் 26 வரையுள்ள வினாக்களுக்குரிய சரியான விடையின் கீழ்க் கோடு இடுக.

12. உருவில் உள்ள தாவரத்தின் பெயர்

- 1) ஆமணக்கு
- 2) வேம்பு
- 3) கண்டங்கத்தரி



13. நெல் அறுவடை செய்வதற்கு உகந்த நிலை

- 1) கதிர் முற்றிப் பச்சை நிறமாக மாறியிருத்தல்.
- 2) கதிர் முற்றி மஞ்சள் நிறமாக மாறியிருத்தல்.
- 3) கதிர் விரிந்து சாம்பல் நிறமாக மாறியிருத்தல்.

14. சிக்கனமான மின்சாரப் பாவனைக்கு உகந்த மின்குமிழ் எது?

- 1) CFL பல்புகள்
- 2) TUBE பல்புகள்
- 3) தங்கிதன் பல்புகள்

15. காற்று வீசும் திசையை அறிவதற்கு உகந்த செயல்முறை யாது?

- 1) புகைக்கும் சாம்பிராணிக் குச்சியின் புகை செல்வதை அவதானித்தல்.
- 2) கொடியில் காயும் ஈர உடைகள் அசைவதை அவதானித்தல்.
- 3) உடல் குளிர்வதைக் கொண்டு கண்டறிதல்.

16. மகாவலி கங்கை கடலுடன் சங்கமிக்கும் பிரதேசம் எது?

- 1) களனி
- 2) திருகோணமலை
- 3) மட்டக்களப்பு

17. குழந்தைகள் அருந்துவதற்கு தகுந்த பால்மா வகை எது?

- 1) முழுஆடைப்பால்மா
- 2) கொழுப்பகற்றப்பட்டபால்மா
- 3) ஆடையகற்றப்பட்ட பால்மா

18. இலங்கைத் தீவு அமைந்துள்ள சமுத்திரம் எது?

- 1) பசுபிக் சமுத்திரம்
- 2) இந்து சமுத்திரம்
- 3) ஆட்டிக் சமுத்திரம்

19. பயிர்களுக்கு சேதம் விளைவிக்கும் பூச்சிகளை அழிப்பதற்கு உகந்த முறை அல்லாதது எது?

- 1) பாவட்டை, புகையிலை, வேப்பச் சாற்றைத் தெளித்தல்
- 2) சவர்க்கார கரைசல், சுண்ணாம்புக் கரைசல், மஞ்சள் நீர் தெளித்தல்.
- 3) நத்தைகளின் இனவிருத்தியைக் கூட்டுதல்.

20. நீரினுள் அமிழ்ந்து விபத்துக்குள்ளானவருக்கு அளிக்கப்பட வேண்டிய முதலுதவி அல்லாதது எது?


- 1) வயிற்றுப் பகுதியை அழுக்கி நீரை வெளியேறச் செய்தல்.
- 2) விபத்துக்குள்ளானவரின் வாயில் எமது வாயை வைத்து காற்றை இழுத்து ஊதி செயற்கைச் சுவாசத்தை ஏற்படுத்துதல்.
- 3) வயிற்றுப் பகுதியை ஈரத்துணியினால் இறுக்கிக் கட்டுதல்.

21. பின்வரும் எச்சந்தர்ப்பத்தில் வீட்டின் முலைகளில் சிலந்திகள் அமைத்த வலைகள் தூசிகள் படிந்து ஒட்டடை ஆக மாறும்?

- 1) வீட்டில் அதிகமானவர்கள் தங்கி இருப்பதனால்
- 2) வீட்டைப் பயன்படுத்தாது அதிக காலம் பூட்டி வைப்பதனால்.
- 3) எவராவது சிலந்திக்கு தொந்தரவு செய்ததனால்


22. சந்திகளில் கடமையில் நிற்கும் இப்பொலிஸாரின் சைகையின் கருத்த யாது

- 1) முன்னாலிருந்தும் பின்னாலிருந்தும் வரும் வாகனங்களை நிறுத்துங்கள்
- 2) பாதைசாரிகள் பாதையைக் கடந்து செல்லுங்கள்.
- 3) முன்னாலிருந்து வரும் வாகனங்கள் செல்லலாம் பின்னாலிருந்து வரும் வாகனங்களை நிறுத்தவும்.



23. இவ்வுருவின் பயன்பாடு யாது?

- 1) சுவரின் நிலைக்குத்துத் தன்மையை பேணுதல்.
- 2) தரையின் கிடைத்தன்மையைப் பேணுதல்.
- 3) படிக்கற்களின் உயரங்களை சீராக்கல்.







24. இவ் அடையாளத்தின் கருத்து யாது?

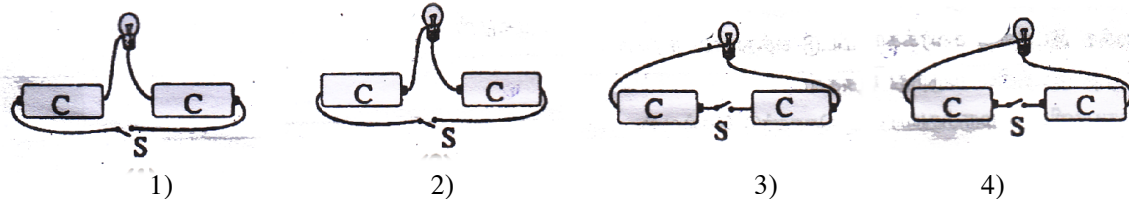
- 1) சக்கார நாற்காலியில் உள்ளவருக்கு உதவி செய்யவும்.
- 2) வலது குறைந்தவர் முன்னுரிமை வழங்கவும்
- 3) ஒட்ட வீரர் உற்சாகப்படுத்தவும்.



25. சூரிய நமஸ்காரத்தில் முதல் நிலையாகவும் இறுதி நிலையாகவும் அமைவது எது?

- 1) 
- 2) 
- 3) 
- 4) 

26. மின்கற்றுக்களில் 'S' எனும் ஆளியை இணைப்பதன் மூலம் ஒளிரக் கூடியது எது?



சரியான விடைகளைப் புள்ளிக் கோட்டில் எழுதுக.

27. 'முப்பதாயிரத்து முந்நூற்று முப்பத்தாறு' என்பதை இலக்கங்களில் எழுதுக.

28. ஒரு வாகனத்தின் தூரமானியின் இரு வேறு நிலைகள்

0	6	3	7	8	4	2	km	0	6	3	8	8	6	7	km
---	---	---	---	---	---	---	----	---	---	---	---	---	---	---	----

முதல் நிலை

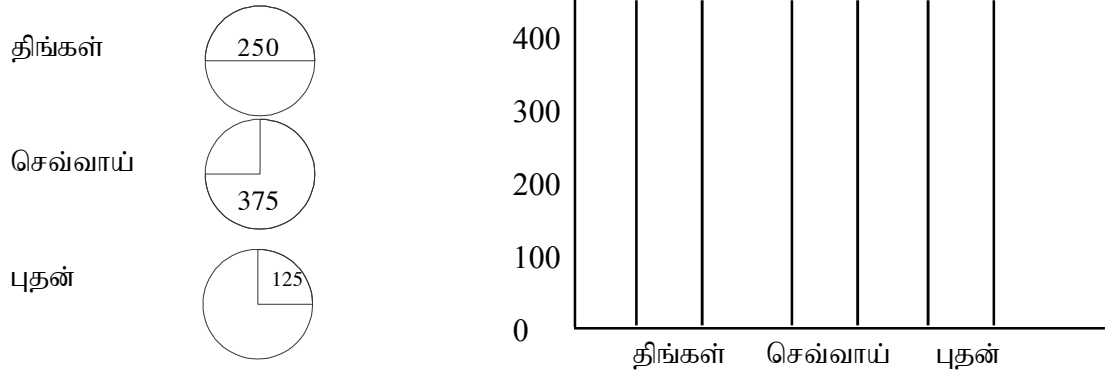
இரண்டாம் நிலை

ஒரு குறித்த வருடத்தின் தை மாதம் முதலாந்திகதி முதல் மானி நிலையும், மாசிமாத முதலாந்திகதி இரண்டாம் மானி நிலையும் காணப்பட்டது. ஒரு மாத காலத்தினுள் ஓடிய தூரம் எவ்வளவு?

29. அட்டவணையைப் பூர்த்தி செய்க.

ஒரு கிலோ கிராம் விலை	2kg 500g விலை	3kg 500g விலை
ரூபா 18.00	_____	_____
_____	_____	ரூபா 56.00
ரூபா 12.00	_____	_____

30. வட்ட வரைபுத் தகவலை சலாகைக் கோட்டு வரைபில் குறிக்குக.



31. ஒரு மேசைக்கரண்டி கொள்ளத்தக்க மருந்தின் கனவளவு 10 ml ஆகும். ஒரு நோயாளிக்கு ஒரு தடவைக்கு மூன்று மேசைக்கரண்டி வீதம் ஒரு நாளைக்கு மூன்று தடவைகள் மருந்து கொடுக்கப்பட்டது. அவருக்கு ஒரு வாரத்துக்கு கொடுக்கப்பட்ட மருந்தின் கனவளவு யாது?

32. ஒரு நகரிலிருந்து காலை 10.00 இற்குப் பயணத்தை ஆரம்பித்த பேருந்து 2 மணி 20 நிமிடங்கள் பயணம் செய்து சிற்றுண்டிச் சாலையில் 30 நிமிடங்கள் தரித்து நின்று மீண்டும் 3 மணி 30 நிமிடங்கள் பயணம் செய்து இன்னொரு நகரை அடைந்தது.

- 1) பயணம் முடிவுற்ற நேரத்தை நியம நேரத்தில் எழுதுக. _____
- 2) பயணத்திற்கு செலவான மொத்த நேரம் எவ்வளவு? _____

33. கூட்டுக.

1) $\frac{1}{3} + \frac{1}{6} =$ _____ 2) $\frac{1}{4} + \frac{1}{8} =$ _____

34. கழிக்குக.

1) $\frac{6}{8} - \frac{1}{4} =$ _____ 2) $\frac{5}{6} - \frac{1}{3} =$ _____

35. 306 புத்தகங்களை ஒருவருக்கு 3 வீதம் எத்தனை பேருக்குப் பகிர்ந்து கொடுக்கலாம்?

36. 6 மீற்றர் நீளமுள்ள ஒரு நாடாவிடமிருந்து ஒவ்வொன்றும் 25cm நீளமுள்ள 6 துண்டுகளை வெட்டிய பின் மீதமிருந்த நாடாவின் நீளம் யாது?

வெற்றிடங்களுக்குப் பொருத்தமான விடையை அடைப்புக்குறிகளினுள்ளேயிருந்து தெரிந்தெடுத்து அதன் கீழ்க் கோட்டுக.

37. மக்கள் கூட்டமாகக் _____ (சென்றார்கள் / சென்றது)

38. வாசற்பூட்டு தொலைந்து _____ (போய்விட்டது / போய்விட்டன)

39. பாடசாலைக் கல்விச் சுற்றுலாவில் பங்கு கொள்வதற்கு அனுமதியும் பண உதவியும் கேட்டு விடுதியில் தங்கியிருந்த மகள் தனது தாய்க்கு கடிதம் எழுதுக.

முகவரி _____

விளிப்பு _____

விடயம் _____

40. முடிவு _____
ஒப்பம் _____