







தரம் 5 புலமைப்பரிசில் பரீட்சைக்கான இலகுவழி மாநிர்ப் பரீட்சை - 41

**ஆசிரியர் : P.அம்பிகைபாகன்
வினாத்தாள் - 1**



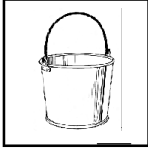






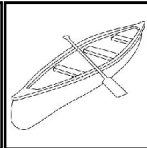

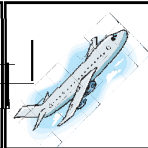
45 நிமிடங்கள்

(அரசு பரீட்சையைத் தழுவின மாநிர்ப் பரீட்சை)

◆ தரப்பட்டுள்ள அறிவுறுத்தல்களுக்கேற்ப கீழே உள்ள வினாக்களுக்கு விடை எழுதுக.
சோடிச் சொற்களுக்கு மிகப் பொருத்தமான உருவைத் தெரிவு செய்க.

01. மின்சாரம் - வளி
- 1)  2)  3) 
02. மன்னர்கள் - போக்குவரத்து
- 1)  2)  3) 

◆ குறைந்த தொடர்பு உள்ள உருச் சோடி இருக்கும் அடைப்பைத் தெரிவு செய்க.

03. 1)   2)   3)  
- 10
04. 1)   2)   3)  

◆ தரப்பட்டுள்ள கவிதையைக் கொண்டு விடை தருக.

சுத்தமே என்றும் சுகம் அளிக்கும் - தீய
சோம்பலை ஓட்டித் துரத்தும், அம்மா!
இத்தரை வாழ்வைப் பெருக்கும், அம்மா! அதற்கு
ஈடேதும் இல்லையான் சொன்னேன், அம்மா!

கந்தையானாலும் கசக்கியுடு - என்னும்
கற்பனை போற்றி நடப்பாய், அம்மா!
சந்தர மேனியுண்டாகும், அம்மா! இந்தச்
சுத்தத்தின் நன்மை சிறிதோ? அம்மா!

05. கவிதையில் குறிப்பிடப்படுவது, 'தீய சோம்பலை ஓட்டித் துரத்தும்' என்பது,
- 1) சோம்பல் சுத்தத்தை உண்டு பண்ணும்.
2) சுத்தம் உற்சாகத்தை உண்டு பண்ணாது.
3) சுத்தம் சோம்பலை அழித்தொழிக்கும்.
06. சுத்தத்தை பேணுவதனால் கிடைக்கக் கூடியது. ஆனால் கவிதையில் குறிப்பிடப்படாத ஒரு விடயம்
- 1) சுகமான வாழ்வு கிடைக்கும்.
2) தொற்று நோய்கள் பீடிக்காது இருத்தல்.
3) சுத்தத்திற்கு இணையானது ஒன்றுமில்லை.

07. பசியினால் பிச்சைக்காரனுக்கு அப்பா

- 1) சிரித்த - குளிர்பானம் கொடுத்தார்.
- 2) களைத்த - காசு கொடுத்தார்.
- 3) வாடிய - உணவளித்தார்.

08. 'ஈடேதும், இல்லையான்' எனும் இரு சொற்களையும் பிரித்தெழுதினால்,

- 1) ஈடு + ஏதும் , இல்லை + யான்
- 2) ஈடு + ஏதுவும் , இல்லை + நான்
- 3) ஈடு + ஏதும் , இல்லை + நான்

◆ உவமானத்திற்கும் வொருத்தமான சந்தர்ப்பத்தைக் காட்டும் விடையைத் தெரிவு செய்க.

09. 'பணையால் விழுந்தவனை மாடேறி மிதித்தாற் போல்'

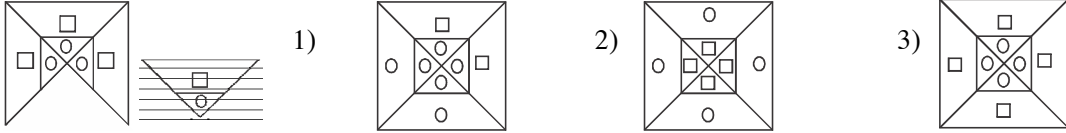
- 1) துன்பத்தின் பின் இன்பம்
- 2) மீண்டும், மீண்டும் துன்பத்துக்குள்ளாதல்.
- 3) செய்த தவறை உணர்ந்து திருந்துதல்.

10. "புளியம்பழமும் ஓடும் போல்"

- 1) இணைபிரியாது ஒற்றுமையாய் இருத்தல்.
- 2) ஒட்டியும், ஒட்டாமலும் ஒற்றுமையாய் இருத்தல்.
- 3) மேலும், மேலும் கோபமாக இருத்தல்.

◆ தொடக்கத்தில் உள்ள உருக்களுடன் தொடர்புபடுத்தும் யோது கிடைக்கும் உருவைத் தெரிவு செய்க.

11.

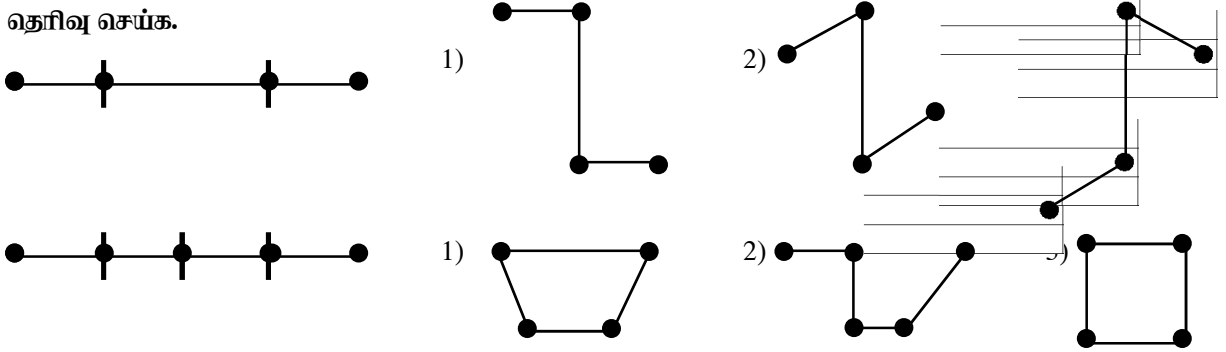


12.

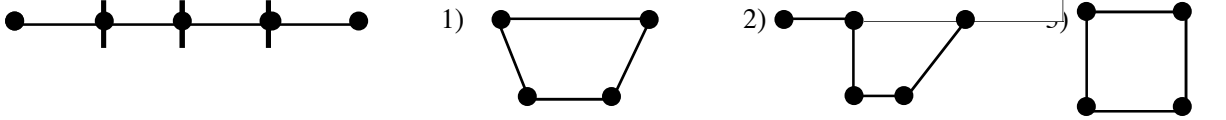


◆ உருக்களில் காட்டப்பட்டவாறு இரு நுனிகளும் செங்கோணத்தில் வளைத்து வய தெரிவு செய்க.

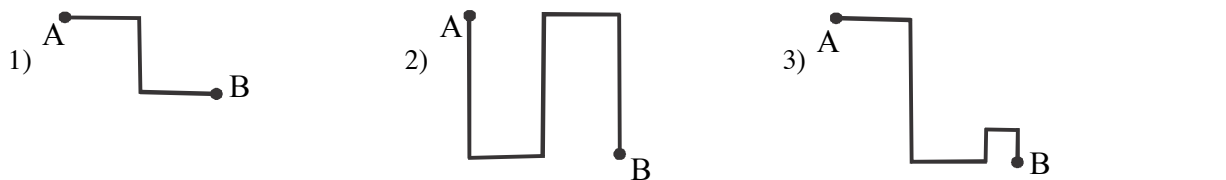
13.



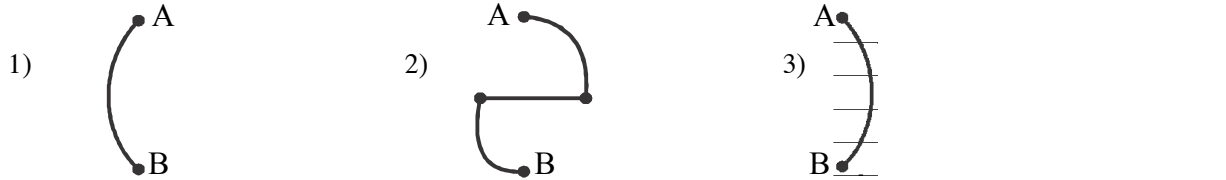
14.



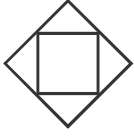
15. A இலிருந்து B க்கான மூன்று பாதைகளின் நீளம் கூடிய பாதை எது.



16.



17. இவ்வட்டைக் கீலத்தை முக்கோணிகள் ஒன்றொடொன்று இணையுமாறு சேர்த்து ஒட்டுவதன் மூலம் கிடைக்கும் உருவில் காணப்படும் தட்டையான மேற்பரப்புக்களின் எண்ணிக்கை யாது?

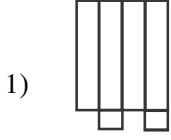


1) 1

2) 4

3) 5

18. கனவுருவை அமைக்கத்தக்க உருவைத் தெரிவு செய்க.



2)



3)



- ◆ **பிழையான கோவைகளைத் தெரிவு செய்க.**

19. 1) $3 + 3 \times 3 = 12$ 2) $4 \times 4 + 4 = 20$ 3) $5 + 5 \times 5 = 50$

20. 1) $8 \div 2 \times 4 = 16$ 2) $10 \div 2 \times 5 = 25$ 3) $3 \div 2 \times 3 = 9$

- ◆ **சரியான கோவைகளைத் தெரிவு செய்க.**

21. 1)
$$\begin{array}{r} 333 \\ 33 \\ 3 \\ \hline 339 \\ \hline \end{array}$$
 2)
$$\begin{array}{r} 444 \\ 44 \\ 4 \\ \hline 482 \\ \hline \end{array}$$
 3)
$$\begin{array}{r} 555 \\ 55 \\ 5 \\ \hline 615 \\ \hline \end{array}$$

22. 1)
$$\begin{array}{r} 1003 \\ 103 \\ 13 \\ \hline 1123 \\ \hline \end{array}$$
 2)
$$\begin{array}{r} 2003 \\ 203 \\ 23 \\ \hline 2229 \\ \hline \end{array}$$
 3)
$$\begin{array}{r} 3003 \\ 303 \\ 30 \\ \hline 3333 \\ \hline \end{array}$$

23. செவ்வக வடிவமான மரக்கறித் தோட்டம் ஒன்றின் நீளப்பக்கம் 18 மீற்றர் அகலப் பக்கம் 12 மீற்றர் ஆகும். அதன் எல்லை வழியே 2 மீற்றர் இடைத்தூரங்களில் கம்பித் தூண்கள் உள்ளன. அவ்வாறு உள்ள கம்பித் தூண்களின் எண்ணிக்கை யாது?

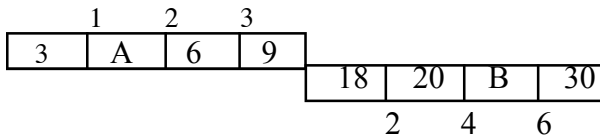
1) 26 2) 30 3) 32

24. K இன் மகள் L என்பவள் H இன் தாய் ஆவாள். M இன் தாய் K ஆனவள் C யின் மகள் ஆவாள். இவர்களுள் வயது கூடியவரும், வயது குறைந்தவரும் ஆக உள்ள இருவரும் யாவர்?

1) K, H 2) C, H 3) M, L

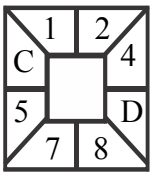
- ◆ **எண்கள் அமைந்துள்ள விதத்தைப் பார்த்து விடையைத் தெரிவு செய்க.**

25. இக்கோலத்தில் A, B ஆகியவற்றுக்குப் பொருத்தமான எண்கள் முறையே யாவை?



1) 1, 28
2) 4, 24
3) 3, 24

26. இக்கோலத்தில் C, D ஆகியவற்றுக்குப் பொருத்தமான எண்கள் முறையே யாவை?



1) 3, 6
2) 2, 7
3) 3, 5

27. இக்கோலத்தில் A, B ஆகியவற்றுக்குப் பொருத்தமான எண்கள் முறையே யாவை?

1) 3, 6
2) 3, 8
3) 3, 4

